

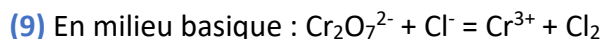
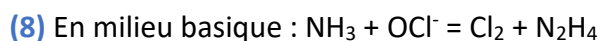
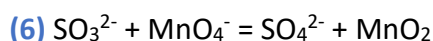
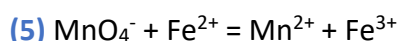
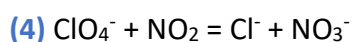
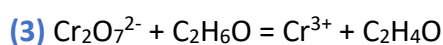
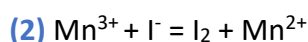
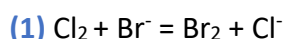
Fiche 9 :

Les réactions d'oxydoréduction

Exercice 1

Dans les équations suivantes :

- A l'aide des nombres d'oxydations, donner les 2 couples oxydant/réducteurs intervenant dans l'équation
- Compléter l'équation (si nécessaire) et ajuster les coefficients en utilisant **la méthode des demi-réactions électroniques**



Exercice 2

Utiliser la méthode des nombres d'oxydations pour ajuster les équations suivantes

